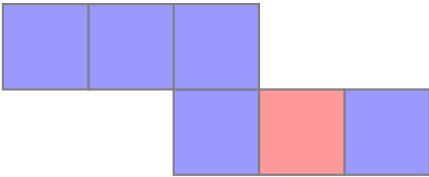


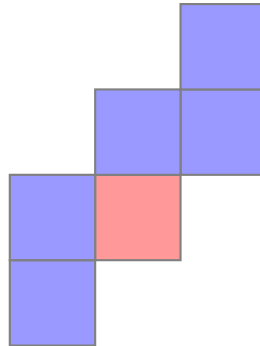
Arbeitsblatt

Würfelnetz

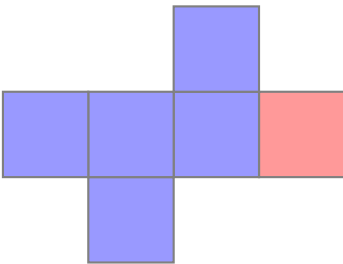
Welches Quadrat liegt der markierten Fläche im Würfel gegenüber?



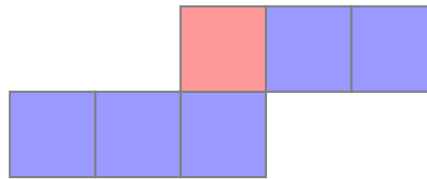
Welches Quadrat liegt der markierten Fläche im Würfel gegenüber?



Welches Quadrat liegt der markierten Fläche im Würfel gegenüber?



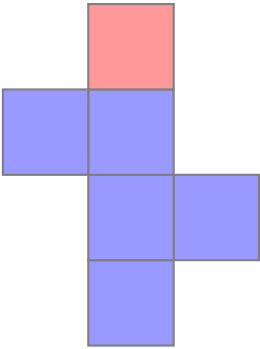
Welches Quadrat liegt der markierten Fläche im Würfel gegenüber?



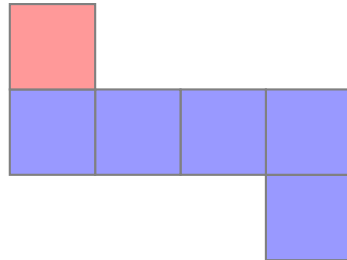
Arbeitsblatt

Würfelnetz

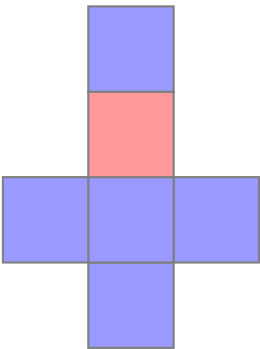
Welches Quadrat liegt der markierten Fläche im Würfel gegenüber?



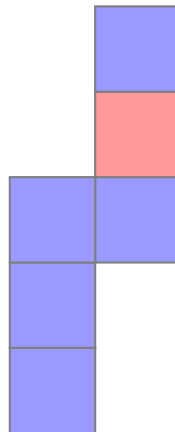
Welches Quadrat liegt der markierten Fläche im Würfel gegenüber?



Welches Quadrat liegt der markierten Fläche im Würfel gegenüber?



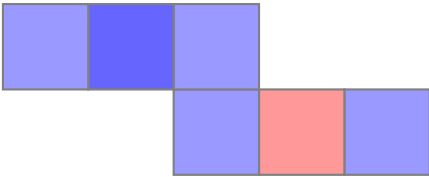
Welches Quadrat liegt der markierten Fläche im Würfel gegenüber?



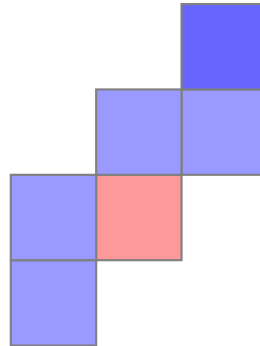
Arbeitsblatt

Würfelnetz

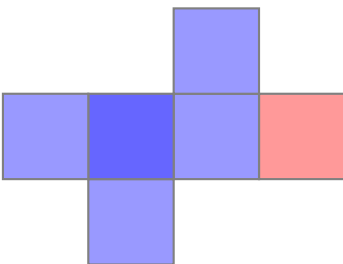
Welches Quadrat liegt der markierten Fläche im Würfel gegenüber?



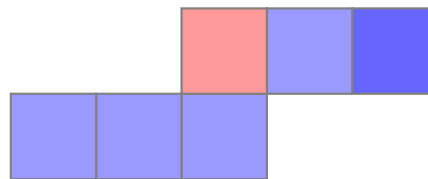
Welches Quadrat liegt der markierten Fläche im Würfel gegenüber?



Welches Quadrat liegt der markierten Fläche im Würfel gegenüber?



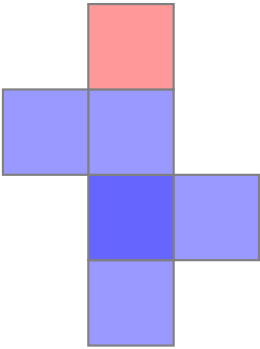
Welches Quadrat liegt der markierten Fläche im Würfel gegenüber?



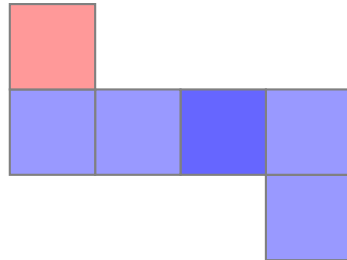
Arbeitsblatt

Würfelnetz

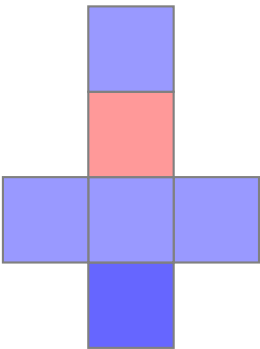
Welches Quadrat liegt der markierten Fläche im Würfel gegenüber?



Welches Quadrat liegt der markierten Fläche im Würfel gegenüber?



Welches Quadrat liegt der markierten Fläche im Würfel gegenüber?



Welches Quadrat liegt der markierten Fläche im Würfel gegenüber?

